

1. Peyami Safa fakirliğini, hastalığını, psikolojik çöküntülerini, ruhçuluğunu, o dönemde yaşadığı çevreyi, çevresinden gördüklerini, yetimliğini, yalnızlığını, annesine tutkusunu, kendi kendisini yetiştirmesini ve bütün bunlara rağmen hayata umutla bağlanmasını romanlarında açık bir şekilde gözler önüne sermiştir.

**Aşağıdakilerden hangisi Peyami Safa'ya ait bir roman değildir?**

- A) Bir Tereddüdün Romanı
- B) Yalnızız
- C) Biz İnsanlar
- D) Sözde Kızlar
- E) Gençliğim Eyvah

2. "Huzur", "Mahur Beste" ve "Saatleri Ayarlama Enstitüsü" yazarın düşünsel serüvenini göstermesi açısından önemli eserlerdir. Osmanlının çöküşü, Batılılaşma etkisi, yaşanan kültür ikilemi, Cumhuriyet Dönemi uygulamaları ve bütün bu olaylar içinde kalan insanımız, yazarın bu üç eserinde vurguları farklı olmakla birlikte konu edilmiştir.

**Aşağıdakilerden hangisi bu parçada adı geçen eserlerin karakterleridir?**

- A) Mualla Hanım – Raif Bey – Halit Ayaracı
- B) Ferit – Selma – Mümtaz
- C) Çolak Salih – Naşit – Nuri Efendi
- D) Fahim Bey – Ali Nizami Bey – Şevkiye Hanım
- E) Mümtaz – Behçet Bey – Hayri İrdal

3. Ege Denizi kıyısında küçük bir kasabada denize tutkun yüzlerce erkek, gözleri denizde yüzlerce kadın, çocuk... Acımasız, insanları teker teker kendine çeken gözü doymaz, azgın bir deniz... Canları pahasına denizden aldıkları ile geçinen sünger emekçilerine denizden daha acımasız davranan; emeği, can kavgasını hiçe sayan çıkarıcı deniz ağaları. İşte Denizin Kanı, böylesi deniz tutkunu insanlarla deniz ağaları arasında geçen dirençli çatışmayı anlatan bir romandır. Deniz ağası zalim Hacı sömüren kişiyi, tayfalardan Kara Mustafa ise sömürülen kişiyi temsil eder. Mustafa'nın karısı İrazca ise köy kadınının bir örneğidir.

**Bu parçada sözü edilen roman, aşağıdaki yazarlardan hangisine aittir?**

- A) Tarık Dursun K.
- B) Zeyyat Selimoğlu
- C) Yaşar Kemal
- D) Halikarnas Balıkcısı
- E) Sait Faik Abasıyanık

4. Sağırdere, (1955) devamı olan Körduman (1957) adlı romanla beraber, "nehir roman" türünü oluşturur. Mekân, Çankırı-Çorum yakınlarındaki Yamören köyüdür. Bu iki roman, eleştirmen Tahir Alangu'ya göre "Anadolu'yu anlatan romanlar içinde, şimdiye kadar yazılabilmiş en mükemmel eserlerdir." Sanatçı, sözü edilen romanlarında ve diğer eserlerinde, devrin modası olan gerçekçilikte aşırılığa kaçmaktan uzak kalmıştır. Onun gerçekçi roman anlayışında, gerçeği bilimden ve tarihî evrimden koparıp sanat ve güzellik adına değiştirmek, yeni şekillere, başka çağ ve çevrelerden aktarılmış malzeme ile bulandırmak gibi davranışlara rastlanmaz. Yamören köyünden Kulaksızların Mustafa'nın sevdiği kız olan Ayşe'nin başkasıyla evlenmesi Mustafa'nın "gurbet"e gitmesi, dönüşüm yaşaması, üretken ve güçlü bir kişi hâline gelmesi ise Sağırdere'nin olay örgüsünü oluşturur.

**Bu parçada aşağıdaki sanatçıların hangisinden söz edilmektedir?**

- A) Orhan Kemal
- B) Sadri Ertem
- C) Reşat Enis Aygen
- D) Talip Apaydın
- E) Kemal Tahir

5. ----, Sabah gazetesinde, "Dekadanlar" makalesini yayımlayınca kadar orta yerde "dekadanlık" sözü yoktu. Bu söz ile birlikte büyük tartışmalar yaşandı ve bu tartışmalar, aslında Servetifünuncu gençlerin bir "ekol" olduğunun fark edilmesini sağladı. Bu makaleyi yazan kişiye göre bu genç edipler "Lisanı berbat ediyorlar, yazdıklarından bir şey anlaşılıyor, bunlara dekadan denir." şeklinde suçlanıyorlardı. Tanzimat Dönemi'nde romanlarıyla ön planda olan sanatçı bu makalesiyle de çok konuşulmuştur.

**Bu parçanın başına aşağıdaki sanatçılardan hangisi getirilmelidir?**

- A) Ahmet Mithat Efendi
- B) Hüseyin Rahmi Gürpınar
- C) Ziya Paşa
- D) Namık Kemal
- E) Recaizade Mahmut Ekrem

6. **Aşağıdakilerden hangisinde Halit Ziya Uşaklıgil'in eserleriyle ayraç içinde belirtilen tür arasında uyum yoktur?**

- A) Kırık Hayatlar, Ferdi ve Şürekası, Bir Ölünün Defteri (roman)
- B) Solgun Demet, Sepette Bulunmuş, Onu Beklerken, Aşka Dair, Bir Yazın Tarihi (hikâye)
- C) Kabus, Fare, Fûruzan (tiyatro)
- D) Kırk Yıl, Saray ve Ötesi, Bir Acı Hikâye (anı)
- E) Hepsinden Acı, Hikâye-i Sevda, Bir Muhtıranın Son Yaprakları (mensur şiir)

- 7. I. Kişiler, iyi-kötü karşıtlığı içinde yansıtılmıştır.
- II. Yazarlar, eserlerinde kişiliğini gizlememişlerdir.
- III. Kişiler ve olaylar çoğunlukla hayal ürünü olup rastlantılara sıkça yer verilmiştir.
- IV. Gözlem ve belge yerine duygulara ve hayallere ağırlık verilmiştir.
- V. Olaylar genellikle İstanbul'da geçmekte olup eserlerde yalı, konak gibi mekânlar kullanılmıştır.

**Numaralanmış cümlelerde verilen özellikler aşağıdaki romanların hangisinde görülmez?**

- A) Felatun Bey'le Rakım Efendi
- B) İntibah
- C) Taaşşuk-ı Talat ve Fîtnat
- D) Karabibik
- E) Henüz On Yedi Yaşında

8. **Tanzimat I. Dönem romanı ile Tanzimat II. Dönem romanının karşılaştırmasına ilişkin aşağıdaki yargılardan hangisi yanlıştır?**

- A) I. Dönem'de roman, toplumu eğitmede bir araç olarak görülmüştür; II. Dönemde ise teknik yetkinlik ön plandadır.
- B) I. Dönem romanlarında hak, adalet, hürriyet gibi konular işlenmiş; II. Dönem romanlarında ise ölüm, yalnızlık, metafizik, tabiat gibi konular işlenmiştir.
- C) I. Dönem romanlarında romantizmin; II. Dönem romanlarında realizmin etkisi söz konusudur.
- D) I. Dönem romanlarında tasvirler, eseri süslemek için kullanılmıştır ve oldukça uzundur; II. Dönem romanlarında ise tasvirler daha gerçekçi ve kısadır.
- E) I. Dönem romanlarında, öznellik ve duygusalılık hâkimdir; II. Dönem romanlarında ise gerçekçilik ve nesnellik söz konusudur.

9. "Fahim Bey ve Biz" ile "Saatleri Ayarlama Enstitüsü" romanları psikolojiden yararlanılarak yazılmıştır. Bu romanlarda iki ortak özellik karşımıza çıkmaktadır: Bunlardan ilki saat kavramıdır. Saat, roman kahramanlarının psikolojik durumlarını okuyucuya aktaran bir nesnedir. Yine bu romanlarda rüya motifi ortak noktadır. Saat gibi rüya da Fahim Bey için bilinmeyenden gelen bir haber niteliğindedir.

**Yukarıda bilgisi verilen eserlerin yazarları aşağıdakilerden hangisidir?**

- A) Tarık Buğra – Peyami Safa
- B) Ahmet Hamdi Tanpınar – Peyami Safa
- C) Abdülhak Şinasi Hisar – Ahmet Hamdi Tanpınar
- D) Abdülhak Şinasi Hisar – Tarık Buğra
- E) Peyami Safa – Semiha Ayverdi

10. Onun ütopyik romanıdır. Madde - mana karşıtlığı üzerine kurulmuş bir romandır. Samim idealisttir; kardeşi Besim ise zevke düşkün bir maddecidir. Meral ise insani ve hayvani benliği arasında bocalamaktadır. Samim içinde bulunduğu maddi dünyadan kaçıp Simeranya adını verdiği hayali bir dünyaya sığınır. Bu romanda "bilinç akışı" ve "iç monolog" tekniği başarıyla kullanılmıştır. Yapıtın, parapsikolojik özellikleri ağır basar. Yazar, eserin kalabalık kadrosuna rağmen âdeta kalabalıklar içindeki yalnızlığa vurgu yaparak romana "Yalnızız" adını vermiştir.

**Aşağıdakilerden hangisi yukarıda tanıtılan eserin yazarına ait değildir?**

- A) Biz İnsanlar
- B) Matmazel Noraliya'nın Koltuğu
- C) Sözde Kızlar
- D) Canan
- E) İbrahim Efendi Konağı

## Cevap Anahtarı

1. E

2. E

3. A

4. E

5. A

6. E

7. D

8. B

9. C

10. E

**1) Kanuni Sultan Süleyman Dönemi'nde Fransızlarla imzalanan kapitülasyon antlaşmasının aşağıdaki maddelerinden hangisi XVIII. Yüzyılda değişime uğramıştır?**

- A) Türk ticaret gemilerinin Fransız kara sularında serbestçe dolaşabilmesi
- B) Osmanlı ülkesindeki Fransızların inançlarında serbest olması
- C) Kapitülasyonların, antlaşmayı imzalayan hükümdarların döneminde geçerli olması
- D) Türkiye'de ölen Fransızların mallarının varislerine bırakılması
- E) Fransız ticaret gemilerinin Osmanlı kara sularında serbestçe dolaşabilmesi

**2) Fransa'nın 1798 yılında işgal ettiği topraklarının çoğunun çöl olduğu Osmanlı toprağı hangisidir?**

- A) Mısır
- B) İran
- C) Cezayir
- D) Suriye
- E) Trablusgarp

**3) Aşağıdaki antlaşmalardan hangisinin imzalanmasından sonra Osmanlı Devleti'nde Lale Devri başlamıştır?**

- A) Karlofça
- B) Pasarofça
- C) Bucaş
- D) Yaş
- E) Prut

**4)Sened-i İttifak'ın imzalanmasından bir süre sonra illerin yönetimine vali ve köylere muhtarların atanmasındaki amaç aşağıdakilerden hangisidir?**

- A)Eyalet isyanlarının önüne geçmek
- B)Tımar sistemini düzenlemek
- C)Azınlıkları yönetime dahil etmek
- D)Devlet otoritesini güçlendirmek
- E)Kanun gücünden yararlanmak

**5)Lise son sınıf öğrencisi olan Emine Bilge, tarih dersinden performans ödevi almış; konusu da Osmanlı Devleti'nde ıslahat hareketleri olmuştur.**

**E. Bilge aşağıdakilerden hangisinde kavram yanlışlığı yaşamıştır?**

- A)Osmanlı Devleti'nde yenileşme hareketleri ıslahatlar diye tanımlanır.
- B) Lale Devri ilk kez Avrupa'nın örnek alındığı dönemdir.
- C) II.Osman ilk ıslahatçı padişahlardandır.
- D)Islahatlar sürekli hale getirilememiştir.
- E) Duraklama Devri ıslahatları tamamen Avrupa örnek alınarak yapılmıştır.

**6)Osmanlı Devleti 1854 yılında ilk dış borcu hangi hükümdar döneminde almıştır?**

- A)Abdülmecit                      B) Abdülaziz                      C) II.Mahmut  
D)Vahdettin                      E) II.Abdülhamit

**7) II.Mahmut Dönemi'nde yaşanan hangi olay uluslararası soruna dönüşmüştür?**

- A) Vaka-i Hayriye                      B) Mehmet Ali Paşa İsyanı  
C)Sened-i İttifak                      D)Heyet-i Vükela'nın kurulması  
E)Tanzimat Fermanı İlanı

**8)Osmanlı Devleti'nde padişahın yetkilerinin meclis yoluyla sınırlandırıldığı yönetim anlayışı aşağıdakilerden hangisidir?**

- A)Teokrasi                      B)Oligarşi                      C) Monarşi  
D) Cumhuriyet                      E) Meşruti Monarşi

**9) Osmanlı Devleti'nde tımar sisteminin bozulması,**

I.Tarım

II.Sanat

III.Ordu

**Alanlarından hangilerini olumsuz yönde etkilemiştir?**

A)Yalnız I

B) Yalnız III

C) I ve II

D)I ve III

E) I, II ve III

**10) Ulu Önder M.Kemal'in hayatında bazı anlar vardır ki çok yapmak istediği fakat bazı nedenlerden dolayı yapamadığı olaylar vardır.**

**M. Kemal'in okul yıllarında meydana gelen ve katılmak istemesine rağmen hem yaşı nedeniyle hem de okul yönetiminin izin vermemesi yüzünden katılamadığı savaş aşağıdakilerden hangisidir?**

A)Trablusparp Savaşı

B)93 Harbi

C)Dömeke Meydan Muharebesi

D)Kırım Savaşı

E)Balkan Savaşları





## **11. SINIF TARİH**

### **CEVAP ANAHTARI**

**1.C**

**2.A**

**3.B**

**4.D**

**5.E**

**6.A**

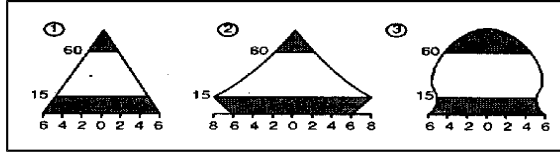
**7.B**

**8.E**

**9.D**

**10.C**

1.



Yukarıda farklı ülkelere ait nüfus piramitleri verilmiştir.

**Bu ülkelerden hangilerinde uzun süren düşük doğum oranlarını tekrar yükseltmek yönünde nüfus politikaları uygulandığı söylenebilir?**

- A)Yalnız I                      B) Yalnız II  
C)Yalnız III  
D) I-II                              E)II-III

2.

Nüfus artış hızının çok düşük olduğu bölgelerde ileriki yıllarda karşılaşılabilecek önemli sorunlardan biride nüfusun yaşlanmasıdır. Bazı ülkelerde bu durumu önlemek için şimdiden önlemler alınmaktadır.

**Buna göre aşağıdaki kıtalardan hangisinde söz konusu durum daha belirgin yaşanmaktadır?**

- A)Afrika                              B)Avrupa  
C) Asya  
D) Güney Amerika  
E)Kuzey Amerika

3.

Türkiye'nin yüksek ve engebeli bir ülke olmasının aşağıdaki ekonomik etkinliklerden hangisi üzerinde etkisi yoktur?

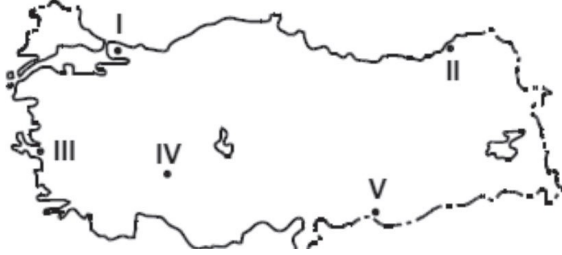
- A) Kış turizmi                      B) Büyükbaş hayvancılık  
C) Yayılacılık                      D) Madencilik  
E) Orman işletmeciliği

4.

**Aşağıda verilen küresel ve bölgesel örgütlerden hangisinde Türkiye yer almamaktadır?**

- A) Birleşmiş milletler  
B) NATO  
C) İslam konferansı örgütü  
D)OPEC  
E) G-20

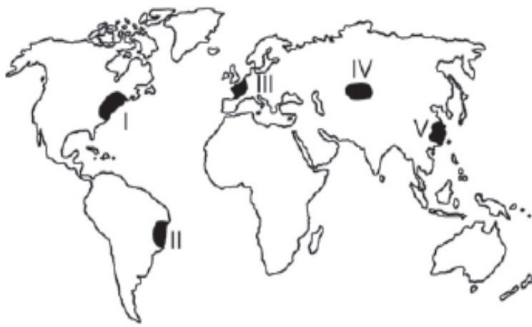
5.



**Yukarıdaki haritada işaretli merkezlerden hangisinde deprem görülme ihtimali daha fazladır?**

- A)Yalnız I  
B) I-II  
C) I-III  
D) III-IV  
E)IV-V

6.



**Yukarıda taralı olarak gösterilen yörelerden hangisinde yağış yetersizliği nedeniyle bitki ve hayvan türü çeşitliliği en azdır?**

- A) I  
B)II  
C)III  
D)IV  
E)V

7.

Ayşe Hanım bir firmanın üst düzey yöneticiliğini yaparken, Kemal Bey ise geçimini hayvancılıkla sağlamaktadır.

**Buna göre Ayşe Hanım ve Kemal Beyin meslekleri aşağıdakilerden hangisinde ekonomik faaliyet kollarına göre doğru sınıflandırılmıştır?**

<u>Ayşe Hanım</u>	<u>Kemal Bey</u>
A) Birincil	Üçüncül
B) Dördüncül	İkincil
C) Üçüncül	Birincil
D) İkincil	Beşincil
E) Birincil	Dördüncül

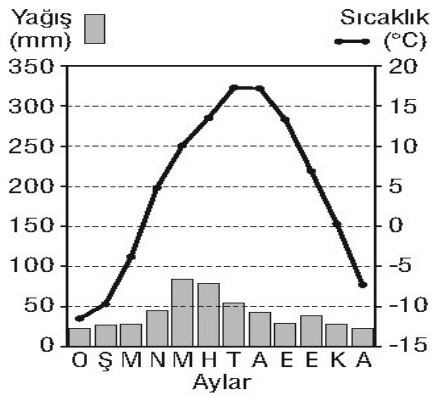
8.

Humus toprağın üst kısmındaki bitkilerin dal ve yapraklarının çürümesiyle oluşan, toprağın verimini artıran organik maddedir.

**Aşağıdaki toprakların hangisinde humus oranı diğerlerine göre daha fazladır?**

- A) Laterit  
B) Podzol  
C) Çernezyom  
D) Terra rossa  
E) Kahverengi step

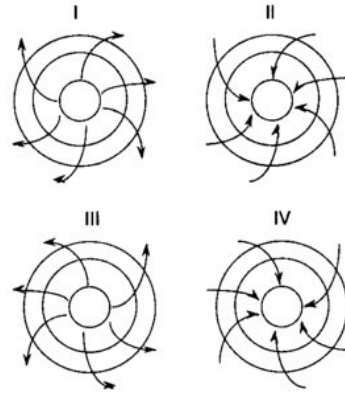
9.



**Yukarıda aylık sıcaklık ve yağış grafiği verilen ilimiz hangisidir?**

- A) Mardin  
B) Erzurum  
C) Manisa  
D) Edirne  
E) Mersin

10.



**Yukarıda verilen basınç oluşumlarından hangileri Kuzey Yarımküre'de görülür?**

- A) I ve II  
B) III ve IV  
C) I ve IV  
D) II ve III  
E) II ve IV



## **11. SINIF**

1-C

2-B

3-D

4-D

5-C

6-D

7-A

8-C

9-B

10-A