

1)Eski bir yerleşim yerinde yapılan kazılarda toprağın en alt katmanında taştan yapılan araç gereçler yanında tunç ve demirden yapılmış araçlara rastlanılmıştır.

Bu yerleşim yeri ile ilgili aşağıdakilerden hangisi söylenebilir?

A)Site devleti yönetiminin görüldüğü

B)Tarihi çağlara geçildiği

C)Tarım üretiminin yapıldığı

D)Tarihsel gelişime uygun yaşanıldığı

E)Aynı dönem içinde birkaç devrin bir arada yaşandığı

2) _Yunanlıların arazilerinin dağlık olması ve tarıma elverişli olmamasından dolayı deniz ticaretine yönelmesi

_Mezopotamya uygarlıklarının iki nehir arasında kurulması

_Mısır uygarlığının Nil'in çevresinde doğması

Durumlarına bakılarak uygarlıkların kuruluşu ve faaliyetlerinde aşağıdakilerden hangisinin etkinliği daha fazla öne çıkar?

A)Sosyal yapı

B)Siyasi yapı

C)Dini ve kültürel yapılar

D)Coğrafi şartlar

E)Askeri amaçlar

3)İlk Türk Devletlerinden Hunlar ile ilgili bazı bilgiler şunlardır;

-İpek Yolu'na sahip olmuşlardır.

-On İki Hayvanlı Türk Takvimi'ni kullanmışlardır.

-Oğuz Kağan Destanı'nı oluşturmuşlardır.

-Onlu sistemi uygulamışlardır.

Bu bilgilere bakılarak aşağıdaki alanlardan hangisi ile ilgili bir gelişmenin olduğu söylenemez?

A)Ekonomi

B)Edebiyat

C)Hukuk

D)Askeri

E)Astronomi

4)Malazgirt zaferi sonrasında Anadolu'nun çeşitli bölgelerinde Saltuklular,Danişmentliler, Mengücekliler, Artuklular, Sökmenoğulları gibi bir çok beylik kurulmuştur.

Bu durumun Anadolu'da aşağıdakilerden hangisine ortam hazırladığı savunulamaz?

A)Farklı kültürlerin birbiriyle karşılaşmasına

B)Gaza ve cihad mücadelesine

C)Türk İslam kültürünün yayılmasına

D) Anadolu siyasi birliđin sađlanmasına

E) Etnik yapının deđişmesine

5) Hz. Osman, Hz. Ömer'in şehit edilmesinden sonra "Şura" denilen bir kurul tarafından halife seçilmiştir.

Bu durum aşağıdakilerden hangisinin göstergesidir?

A) Devlet yöneticilerinin belirlenmesinde kamuoyunun dikkate alındığının

B) Devlet örgütlenmesinin tamamlanmadığının

C) Kabilecilik anlayışının devam ettiğinin

D) Yönetimin babadan ođula geçtiğinin

E) Devlet başkanının belirlenmesinde dini kuralların geçerli olduğunun

6) Osmanlı Devleti'nin kuruluş yıllarında Anadolu ve Balkanlar'da siyasi birliđin olmaması aşağıdakilerden hangisini kolaylaştırdığı savunulabilir?

A) Osmanlı'nın ekonomisinin gelişmesini

B) Bizans'ın Osmanlı Devleti'ne karşı destek bulmasını

C) Osmanlı Devleti'nin Rumeli'de ilerlemesini

D) Türk beyliklerinin Osmanlı Devleti'ni desteklemesini

E) Osmanlı'ya karşı Haçlı Seferleri düzenlenmesini

7) Birinci TBMM döneminde gerçekleştirilen;

-TBMM'ye karşı çıkan isyanları bastırmak amacıyla Hıyanet-i Vataniye Kanunu'nun çıkarılması

-1921 Anayasası'nın kabul edilmesi

-Saltanatın kaldırılması

Uygulamalarına bakılarak TBMM ile ilgili aşağıdakilerden hangisine ulaşılamaz?

A)Ulusal egemenlik anlayışı pekişmiştir.

B)Devletin temel nitelikleri belirlenmiştir.

C)Meclisin Anadolu'daki otoritesi artmıştır.

D)Tamamen kabine sistemine geçilmiştir.

E)Yasama gücü kullanılmıştır.

8)Erzurum Kongresi'nde alınan;

-Manda ve himaye kabul edilemez.

-Hristiyan azınlıklara siyasi hakimiyet ve sosyal dengemizi bozacak imtiyazlar verilemez.

-Mebuslar Meclisinin hemen toplanması ve hükümet işlerinin meclis tarafından kontrol edilmesi için çalışılacaktır.

Kararlarına bakılarak aşağıdakilerde hangisi söylenemez?

A)Ülke bütünlüğü korunmaya çalışılmıştır.

B)Düzenli orduya geçilmesine çalışılmıştır.

- C)Koşulsuz bağımsızlığın gerçekleştirilmesine vurgu yapılmıştır
D)Ulus iradesinin yönetime katılımına çalışılmıştır.
E)İstanbul Hükümeti'nin denetlenmesi amaçlanmıştır.

9) I.Cumhuriyetin ilan edilmesi

II.Kadınlara seçme ve seçilme hakkının verilmesi

III.Partilerin kurulması

Yeni Türk Devleti'nde bu gelişmelerden hangileri demokrasinin gelişimine ortam hazırlamıştır?

A)Yalnız I

B)I ve II

C)I ve III

D)II ve III

E)I,II ve III

10)-Türk Tarih Kurumu'nun kurulması

-Türk Dil Kurumu'nu kurulması

-Türk Medeni Kanunu'nun kabul edilmesi

Yukarıda verilen yenilikler hangi Atatürk ilkesi ile doğrudan ilişkilidir?

A) Milliyetçilik

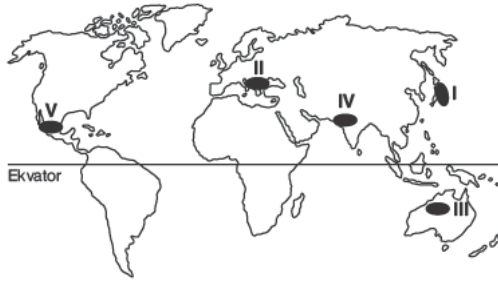
B)Halkçılık

C) İnkılapçılık

D)Cumhuriyetçilik

E) Laiklik

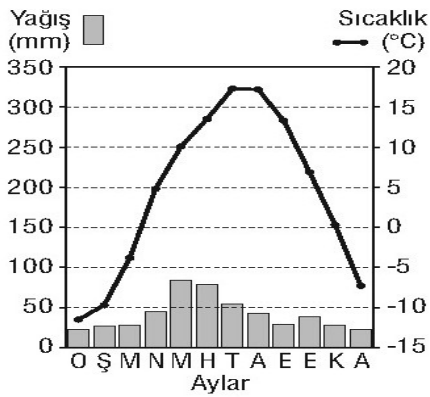
1.



Yukarıda verilen numaralı yerlerin hangilerinde şiddetli deprem yaşanmaz?

- A) I B) II C) III D) IV
E) V

2.



Yukarıda aylık sıcaklık ve yağış grafiği verilen ilimiz hangisidir?

- A) Mardin B) Erzurum
C) Manisa
D) Edirne E) Mersin

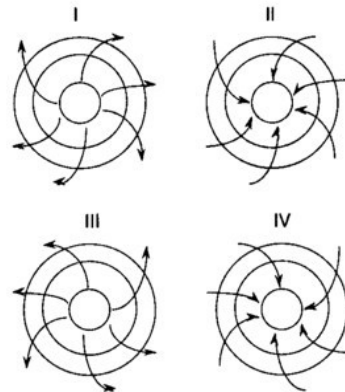
3.



Yukarıdaki haritada gösterilen güzergahta yapılan deniz yolu seyahatinde aşağıdaki yollarından hangisi kullanılmaz?

- A) Panama Kanalı B) Süveyş Kanalı
C) Cebeli Tarık Boğazı D) Malakka Boğazı
E) Macellan Boğazı


4.



Yukarıda verilen basınç oluşumlarından hangileri Kuzey Yarımküre'de görülür?

- A) I ve II B) III ve IV C) I ve IV
D) II ve III E) II ve IV

5.



Şekilde oluşumu gösterilen yağış çeşidi aşağıdaki illerden hangisinde daha fazla görülür?

- A) İzmir B) Konya
C) Rize
D) Edirne E)
Çanakkale

6.

- I. Mantar kaya
II. Falez
III. Kumul
IV. Menderes

Yukarıdaki yer şekillerinden hangilerinin oluşumunda rüzgarlar etkili olmuştur?

- A) Yalnız I B) II-IV C)
I-III

D) I-II

E) III-IV

7.

Püskürük ve tortul kayaçların yüksek sıcaklık ve basınç altında değişimi sonucu metamorfik(başkalaşım) kayaçlar meydana gelir.

Buna göre aşağıdaki kayaçlardan hangisi metamorfik kayaçlardan biridir?

- A) Granit B) Kalker
C) Bazalt
D) Elmas E) Tüf

8.

Aşağıdakilerden hangisine bakılarak bir ülkenin gelişme düzeyi hakkında bilgi sahibi edinilemez?

- A) Okur-yazar oranı
B) Çalışan nüfusun yaş ortalaması
C) Ortalama insan ömrü
D) Nüfusun sektörlere dağılımı
E) Aritmetik nüfus yoğunluğu

9.



Çöllerde günlük sıcaklık farkı fazladır. Bu nedenle kayalarda fiziksel çözülme görülür.

Buna göre harita üzerinde verilen numaralı alanların hangisinde yukarıdaki açıklamaya benzer bir durum yaşanır?

- A) Yalnız IV
III-V
- B) I-II
- C)
- D) IV-V
- E) II-V

10.

Yağış ile klimatoloji arasında doğrudan bir ilişki bulunmaktadır.

Yukarıda verilen ilişki, su döngüsü ile aşağıdakilerden hangisi arasında da vardır.

- A) Hidroloji
C) Jeoloji
- B) Biyoloji
- D) Litoloji
- E) Kartografya

COĞ TYT

1-C
2-B
3-E
4-A
5-C

6-C
7-D
8-E
9-D
10-A

1) Din, insanları iyi ve faydalı işler yapmaya yönelten, toplumları yücelten ve geliştiren bir olgudur.

Buna göre aşağıdakilerden hangisinin dinin insan hayatındaki yeri ve öneminden biri olduğu savunulamaz?

- A) Maddi ve manevi sıkıntılara karşı direnci arttırır.
- B) Kardeşlik, huzur ve barışın artmasına neden olur.
- C) Toplum hayatına yön veren tek kaynaktır.
- D) Birlik ve beraberliğin artmasına neden olur.
- E) Hak ve sorumluluklarımızı hatırlatır.

2) Aşağıdakilerden hangisi insanın dünya hayatındaki davranışlarını olumlu yönde etkilediği gibi insanın ölümsüzlük isteğine de cevap verir?

- A) Kaza
- B) Tevekkül
- C) Mahşer
- D) Ahiret inancı
- E) Kader

3) İnanma, insanoğlunun doğuştan sahip olduğu ve farklı şekillerde ifade ettiği bir duygudur.

Bu duyguyu ifade etmedeki farklılıklar, öncelikle aşağıdakilerden hangisine neden olmuştur?

A)Vahye dayalı olan inanç biçimlerinin toplumlar üzerinde etkili olmasına

B)İnsanın, fıtratına uygun davranmasına

C)Politeist anlayışın ortaya çıkmasına

D)Tevhit inancının gelişmesine

E)Değişik inanma biçimlerinin doğmasına

4)“... Kim inanmayı kabul etmezse onun ameli boşa gitmiştir. O ahirette de kaybedenlerdendir.” Maide suresi 5.ayet.

Aşağıdakilerden hangisi bu ayete bakılarak ulaşılabilecek yargılardan biri değildir?

A) Kişi; ibadetleri, kendinden beklenen güzel ve ahlaki davranışları yapmazsa dinden çıkar.

B) Dini hayat imanla başlayıp ibadetle devam eder.

C) İnanç, yalnızca kalpte yaşatılabilecek basit bir duygu değildir; ancak ibadetlerle eyleme dönüşür.

D) İman eden kimseden ibadet etmesi beklenir.

E) Düşünceden eyleme geçmemiş olan iman, meyvesiz bir ağaca benzer.

5)“Allah yolunda mallarını harcayanların örneđi, yedi başak bitiren bir dane gibidir ki her başakta yüz dane vardır. Allah dilediđine kat kat fazlasını verir. Allah’ın lütfu geniştir. O her şeyi bilir.”

Bakara suresi, 261.ayet.

Bu ayete bakılarak;

I.Allah hiçbir yardımı karşılıksız bırakmaz.

II.Zekat vermek malın azalmasına sebep olmaz.

III.Zekat verilirken malların iyisinden verilmelidir.

Yargılarından hangisine ya da hangilerine ulaşılabilir?

A)Yalnız I

B)Yalnız II

C)Yalnız III

D) I ve II

E)II ve III

1)Her filozof daha önce işlenmiş bir konuyu yeniden ele alır ve yeni sonuçlara ulaşmaya çalışır. Böylece aynı konuda bir çok görüş ortaya çıkar.

Parçada felsefenin hangi özelliği belirtilmek istenmiştir?

A)İdeal olanla ilgilenmesi

B)Nesnel oluşması

C)Öznel olması

D)Refleksif olması

E)Ontolojik sorunlarla ilgilenmesi

2)-Akla dayalı bir bilgidir.

-Evrenseldir.

-Deney ve gözleme dayanır.

-Olgusaldır.

-Birikimli olarak ilerler.

Bu bilgiler,aşağıdakilerden hangisine örnektir?

A)Bilimsel bilgiye

B)Teknik bilgiye

C)Sanatsal bilgiye

D)Felsefi bilgiye

E)Gündelik bilgiye

3)Din felsefesinin temel amacı din olgusunun dayandığı temel ilkeleri ve dinin temel kavramlarını sorgulamaktır.

Buna göre,aşağıdakilerden hangisinin din felsefesinin kavramlarından biri değildir?

A)İman

B)Eşitlik

C)Yüce

D)Vahiy

E)Tanrı

4)Çölü güzel yapan şey bir yerlerde su kuyusu saklıyor olmasıdır. Hakikati arayan filozofun ulaşmak istediği şey de çöldeki su kuyusu gibidir. Bu yüzden çölde gezip dolaşmak filozofa haz verir.

Buna göre aşağıdakilerden hangisi filozofun bu özelliğiyle ilgilidir?

A)Dogmatik yapıda olmak

B)Olana olduğu gibi almak

C)Yenilenmeye karşı olmak

D)Sürekli sorgulamak

E)Bildiğiyle yetinmek

5) I.Güzellik nedir?

II.Sanatçının etkinliđi nasıl bir etkinliktir?

III.Sanatın amacı,işlevi ve değeri nedir?

IV.Ortak estetik yargılar mümkün müdür?

Bu bilgiler, aşığıdaki alanlardan hangisiyle ilişkilidir?

A)Ontoloji(Varlık)

B)Etik(Ahlak)

C)Epistemoloji(Bilgi)

D)Metafizik

E)Estetik

TYT TARİH

1.E

2.D

3.C

4.D

5.A

6.C

7.A

8.B

9.E

10.A

FELSEFE

1.C

2.A

3.B

4.D

5.E

DİN KÜL. VE AHLAK BİL.

1.C

2.D

3.E

4.A

5.D